

ઘોરણ : બાલવાટિકા

વાર્ષિક પરીક્ષા - ૨૦૨૫

તા :/...../૨૦૨૫

વિદ્યાર્થીનું નામ :

વિષય - ગણિત



કુલ ગુણ : ૪૦

શાળાનું નામ :તા-.....જી-.....

પ્રશ્ન નંબર	૧	૨	૩	૪	૫	કુલ ગુણ
કુલ ગુણ	૫	૫	૫	૨૦	૫	૪૦
મેળવેલ ગુણ						


પ્રશ્ન -૧ નીચે આપેલા ચિત્ર ગણીને ખાના માં સંખ્યા લખો.

કુલ ગુણ - ૫



પ્રશ્ન -૨ સરખા આકારો જોડો.

કુલ ગુણ - ૫



પ્રશ્ન -૩ નીચે આપેલ ખાનામાં ખૂટતા અંક લખો.

કુલ ગુણ - ૫

૧	૨		૪		૬		૮		૧૦
---	---	--	---	--	---	--	---	--	----

પ્રશ્ન -૪ (અ) માગ્યા મુજબ સંખ્યાઓ લખો.

કુલ ગુણ - ૧૦

તરત પછીની સંખ્યા લખો.

૪	
૨	
૧	
૭	
૯	

તરત પહેલાંની સંખ્યા લખો.

	૨
	૩
	૮
	૮
	૯

પ્રશ્ન -૪ (બ) સરવાળા કરો.

કુલ ગુણ - ૧૦

$$\boxed{૨} + \boxed{૧} = \boxed{}$$

$$\boxed{૪} + \boxed{૨} = \boxed{}$$

$$\boxed{૬} + \boxed{૩} = \boxed{}$$

$$\boxed{૧} + \boxed{૯} = \boxed{}$$

$$\boxed{૫} + \boxed{૦} = \boxed{}$$

પ્રશ્ન -૫ નીચે આપેલા આકાર ઘૂંટો અને રંગ પૂરો .

કુલ ગુણ - ૫

